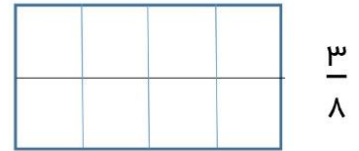
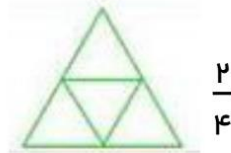
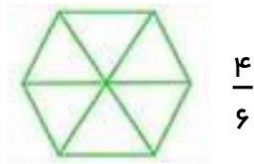


۱- دخترم عدد ۶۳۰۷ را با حروف بنویس و به پرسش ها پاسخ بده :

----- ارزش مکانی رقم ۳ چیست ؟

----- ارزش مکانی کدام رقم از همه بیشتر است ؟

۲- به اندازه ی کسر نوشته شده شکل ها را رنگ بزن .



۳- علامت < = > قرار بده:

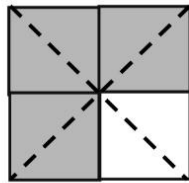

$$\frac{5}{9} \bigcirc \frac{7}{9}$$

$$\frac{2}{2} \bigcirc 1$$

$$\frac{1}{4} \bigcirc \frac{1}{7}$$

$$\frac{3}{5} \bigcirc \frac{4}{5}$$

۴- یک تساوی برای شکل زیر بنویس :



----- = -----

۵- جاهای خالی را با اعداد مناسب کامل کن.

۱۲۶۰ گرم ----- کیلوگرم و ----- گرم

۳۲۰۵ متر ----- کیلومتر و ----- متر

۴ کیلو گرم و ۳۵۰ گرم = -----

۱۴۷ سانتی متر یعنی ----- متر و ----- سانتی متر

۶- سارا هر برچسب را ۳۰۰ تومان می خرد و ۴۰۰ تومان می فروشد . با توجه به جدول داده شده به سوالات پاسخ بده:

تعداد برچسب	۱	۲	۳					
سود								

- فروش یک برچسب چند تومان برایش سود دارد؟

- اگر او ۳ برچسب بفروشد چند تومان سود می برد؟

- او باید چند برچسب بفروشد تا با سود آن بتواند یک برچسب دیگر بخرد؟

۷- حاصل ضرب و تقسیم و جمع و تفریق های زیر را بدست آورید؟

$$\begin{array}{r} 252 \\ \times 3 \\ \hline \end{array}$$

$$\begin{array}{r} 3596 \\ + 1485 \\ \hline \end{array}$$

$$\begin{array}{r} 9405 \\ - 3542 \\ \hline \end{array}$$

$$0 \times 9 =$$

$$1 \times 45 =$$

$$2 \times 8 \times 100 =$$

$$50 \overline{) 7}$$

$$46 \overline{) 9}$$

نام نام خانوادگی = _____

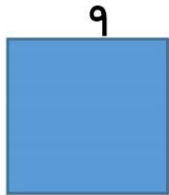
به نام خدا

آزمون ریاضی خرداد ماه

دبستان غیر دولتی یاس

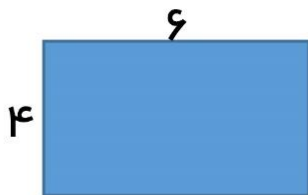
سوم بهار - آموزگار: رمضان پور

۸- محیط و مساحت شکل های داده شده را پیدا کن.



= محیط

= مساحت



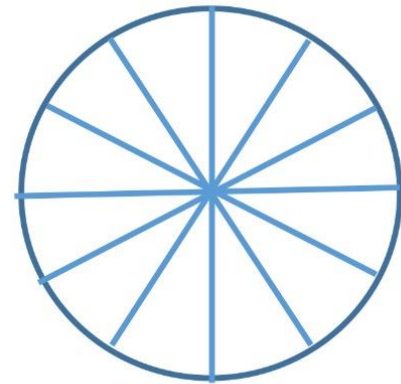
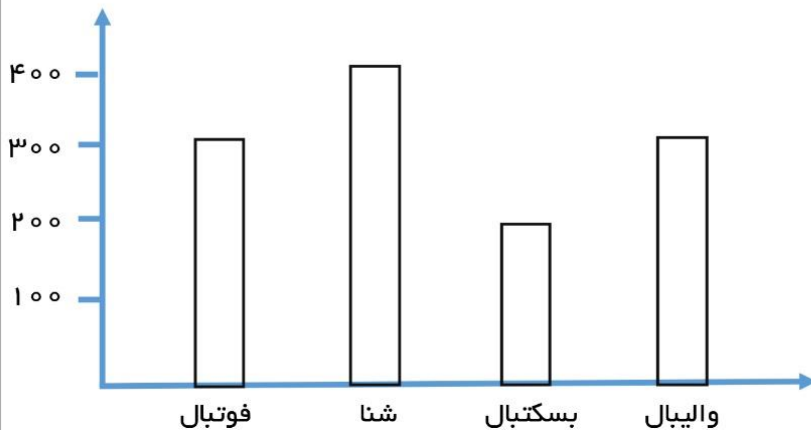
= محیط

= مساحت

۹- همه ی عدد های ۳ رقمی که رقم یکان آنها (۰ و ۷ و ۵) و رقم دهگان آنها (۴) و رقم صدگان آنها (۸ و ۶) باشد

۱۰- می خواهیم ۶ بسته ی ۱۲ تایی مداد رنگی را بین ۹ نفر به طور مساوی تقسیم کنیم به هر کدام چند تا مداد می رسد؟ چند تای دیگر باقی می ماند؟

۱۱- نمودار ستونی زیر نشان دهنده ی علاقه ی دانش آموزان یک مدرسه به رشته های ورزشی است . با توجه به آن نمودار دایره ای را کامل کن و به سوالات پاسخ بده:



نکته : هر ۱۰۰ نفر یک قسمت

الف) علاقمندان به کدام ورزش از همه بیشتر است؟

ب) کسر $\frac{۲}{۱۲}$ در نمودار دایره ای مربوط به کدام ورزش بیشتر است؟

ج) چند دانش آموز به ورزش فوتبال علاقه دارند؟

۱- دخترم عدد ۶۳۰۷ را با حروف بنویس و به پرسش ها پاسخ بده :

شش هزار و سیصد و هفت

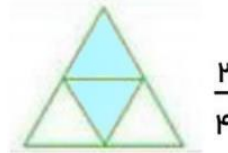
ارزش مکانی رقم ۳ چیست ؟ صدگان

ارزش مکانی کدام رقم از همه بیشتر است ؟ ۶

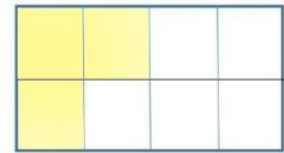
۲- به اندازه ی کسر نوشته شده شکل ها را رنگ بزن .



$\frac{4}{6}$



$\frac{2}{4}$



$\frac{3}{8}$

۳- علامت $<$ $=$ $>$ قرار بده:

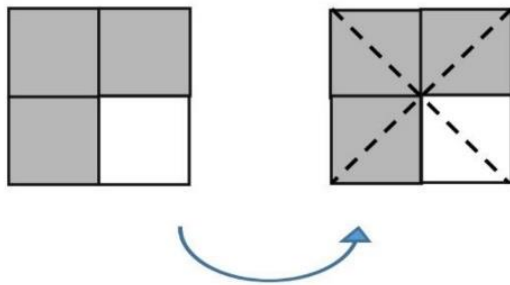
$$\frac{5}{9} < \frac{7}{9}$$

$$\frac{2}{2} = 1$$

$$\frac{1}{4} > \frac{1}{7}$$

$$\frac{3}{5} < \frac{4}{5}$$

۴- یک تساوی برای شکل زیر بنویس :



$$\frac{3}{4} = \frac{6}{8}$$

۵- جاهای خالی را با اعداد مناسب کامل کن.

۱۲۶۰ گرم ----- ۱ ----- کیلوگرم و ۲۶۰ گرم

۳۲۰۵ متر ----- ۳ ----- کیلومتر و ۲۰۵ متر

۴ کیلوگرم و ۳۵۰ گرم = ۴۳۵۰ گرم

۱۴۷ سانتی متر یعنی ۱ ----- متر و ۴۷ ----- سانتی متر

۶- سارا هر برچسب را ۳۰۰ تومان می خرد و ۴۰۰ تومان می فروشد . با توجه به جدول داده شده به سوالات پاسخ بده:

تعداد برچسب	۱	۲	۳	۴	۵	۶	۷	۸
سود	۱۰۰	۲۰۰	۳۰۰	۴۰۰	۵۰۰	۶۰۰	۷۰۰	۸۰۰

- فروش یک برچسب چند تومان برایش سود دارد؟ **۱۰۰ تومان**

- اگر او ۳ برچسب بفروشد چند تومان سود می برد؟ **۳۰۰ تومان**

- او باید چند برچسب بفروشد تا با سود آن بتواند یک برچسب دیگر بخرد؟ **۳ برچسب**

۷- حاصل ضرب و تقسیم و جمع و تفریق های زیر را بدست آورید؟

$$\begin{array}{r}
 252 \\
 \times 3 \\
 \hline
 + 600 \\
 + 150 \\
 + 6 \\
 \hline
 756
 \end{array}$$

$200 + 50 + 2$

$$\begin{array}{r}
 111 \\
 3596 \\
 + 1485 \\
 \hline
 5081
 \end{array}$$

$$\begin{array}{r}
 8310 \\
 9405 \\
 - 3542 \\
 \hline
 5863
 \end{array}$$

$$0 \times 9 = 0$$

$$1 \times 45 = 45$$

$$2 \times 8 \times 100 = 1600$$

$$\begin{array}{r}
 410 \\
 - 50 \overline{) 7} \\
 \hline
 49 \overline{) 7} \\
 \hline
 01
 \end{array}$$

$$\begin{array}{r}
 46 \overline{) 9} \\
 - 45 \overline{) 5} \\
 \hline
 01
 \end{array}$$

نام نام خانوادگی = _____
سوم بهار - آموزگار: رمضان پور

به نام خدا

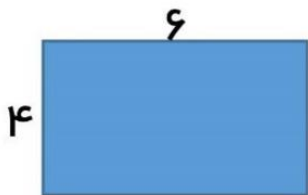
آزمون ریاضی خرداد ماه
دبستان غیر دولتی یاس

۸- محیط و مساحت شکل های داده شده را پیدا کن.



$$\text{محیط} = 9 \times 4 = 36$$

$$\text{مساحت} = 9 \times 9 = 81$$



$$\text{محیط} = 4 + 6 + 4 + 6 = 20$$

$$\text{مساحت} = 4 \times 6 = 24$$

۹- همه ی عدد های ۳ رقمی که رقم یکان آنها (۰ و ۷ و ۵) و رقم دهگان آنها (۴) و رقم صدگان آنها (۸ و ۶) باشد

$$640 - 647 - 645$$

$$840 - 847 - 845$$

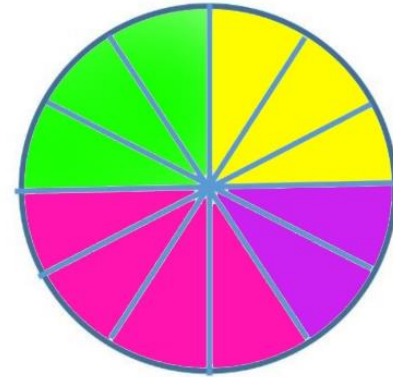
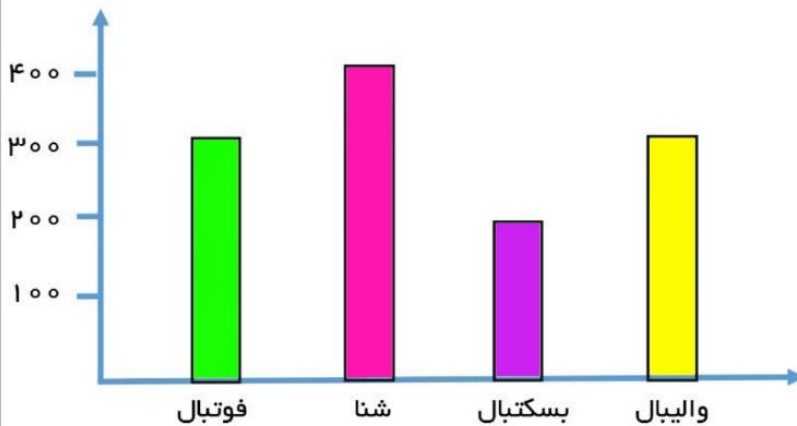
۱۰- می خواهیم ۶ بسته ی ۱۲ تایی مداد رنگی را بین ۹ نفر به طور مساوی تقسیم کنیم به هر کدام چند تا مداد می رسد؟ چند تای دیگر باقی می ماند؟

$$\begin{array}{r} 12 \\ \times 6 \\ \hline 60 \\ + 12 \\ \hline 72 \end{array}$$

$$\begin{array}{r} 72 \quad | \quad 9 \\ 72 \quad | \quad 8 \\ \hline 00 \end{array}$$

به هر کدام ۸ مداد می رسد. هیچ مدادی باقی نمی ماند.

۱۱- نمودار ستونی زیر نشان دهنده ی علاقه ی دانش آموزان یک مدرسه به رشته های ورزشی است . با توجه به آن نمودار دایره ای را کامل کن و به سوالات پاسخ بده:



نکته : هر ۱۰۰ نفر یک قسمت

الف) علاقمندان به کدام ورزش از همه بیشتر است؟ **شنا**

ب) کسر $\frac{۲}{۱۲}$ در نمودار دایره ای مربوط به کدام ورزش بیشتر است؟ **بسکتبال**

ج) چند دانش آموز به ورزش فوتبال علاقه دارند؟ **۳۰۰ دانش آموز**